
Proba de

Código

CMPS003

Ciencias sociais

Parte sociolingüística. Ciencias sociais



1. Formato da proba

Formato

- A proba consta de vinte cuestións tipo test.
- As cuestións tipo test teñen tres posibles respostas, das que soamente unha é correcta.

Puntuación

- 0,50 puntos por cuestión tipo test correctamente contestada.
- Por cada cuestión tipo test incorrecta restarase 0,125 puntos.
- Polas respostas en branco non se descontará puntuación.
- No caso de marcar máis dunha resposta por pregunta considerarase como unha resposta en branco.

Duración

- Este exercicio terá unha duración máxima de 40 minutos.

Materiais e instrumentos que se poden empregar durante a proba

- Bolígrafo con tinta negra ou azul.



2. Exercicio

1. Polo seu aspecto historicista e de vangarda á vez, esta obra arquitectónica de Antoni Gaudí pode enmarcarse no estilo...

Por su aspecto historicista y de vanguardia a la vez, esta obra arquitectónica de Antoni Gaudí puede enmarcarse en el estilo...

- A Modernista.
- B Postmoderno.
- C Gótico.



2. O instrumental que se presenta, feito en pedra pulimentada, é propio dun período histórico concreto, cal?

El instrumental que se presenta, realizado en piedra pulimentada, es propio de un período histórico concreto, ¿cuál?

- A Idade do Ferro. / *Edad del Hierro.*
- B Paleolítico.
- C Neolítico.



3. Sinale a secuencia correcta dos seguintes feitos históricos.


Señale la secuencia correcta de los siguientes hechos históricos.

- A Concilio de Trento - Paz de Westfalia - Tratado de Utrecht.
- B Concilio de Trento - Tratado de Utrecht - Paz de Westfalia.
- C Paz de Westfalia - Tratado de Utrecht - Concilio de Trento.

4. Polas súas características (clasicismo, unidade da composición, dominio da perspectiva e técnica pictórica ao óleo), a que estilo artístico pertence a obra?

Por sus características (clasicismo, unidad de composición, dominio de la perspectiva y técnica pictórica al óleo), ¿a qué estilo artístico pertenece la obra?

- A Neoclásico.
- B Barroco.
- C Renacentista.





5. Neste mapa do mundo, identifique correctamente as áreas de produción económica numeradas.

En este mapa del mundo, identifique correctamente las áreas de producción económica numeradas.



- A** 1: millo, 2: gandería extensiva, 3: bosque ecuatorial, 4: pesca, 5: café.
1: maíz, 2: ganadería extensiva, 3: bosque ecuatorial, 4: pesca, 5: café.
- B** 1: gandería extensiva, 2: bosque ecuatorial, 3: café, 4: pesca, 5: millo.
1: ganadería extensiva, 2: bosque ecuatorial, 3: café, 4: pesca, 5: maíz.
- C** 1: bosque ecuatorial, 2: gandería extensiva, 3: millo, 4: pesca, 5: café.
1: bosque ecuatorial, 2: ganadería extensiva, 3: maíz, 4: pesca, 5: café.

6. Identifique correctamente os principais ríos asiáticos.

Identifique correctamente los principales ríos asiáticos.



- A** 1: Mekong 2: Amarelo 3: Yang Tzé 4: Ganxes 5: Indo
1: Mekong 2: Amarillo 3: Yang Tzé 4: Ganges 5: Indo
- B** 1: Amarelo 2: Yang Tzé 3: Indo 4: Mekong 5: Ganxes
1: Amarillo 2: Yang Tzé 3: Indo 4: Mekong 5: Ganges
- C** 1: Yang Tzé 2: Amarelo 3: Mekong 4: Indo 5: Ganxes
1: Yang Tzé 2: Amarillo 3: Mekong 4: Indo 5: Ganges



7. Indique o ano do inicio da Revolución Soviética.

Indique el año de inicio de la Revolución Soviética.

- A 1914
- B 1917
- C 1923

8. Que pobo de orixe xermánica ocupou Galicia e o norte do actual Portugal no século V dC?

¿Qué pueblo de origen germánico ocupó Galicia y el norte del actual Portugal en el siglo V dC.?

- A Alanos.
- B Suevos.
- C Visigodos.

9. Identifique, de leste a oeste, os accidentes xeográficos que atravesaba a liña vermella.

Identifique, de este a oeste, los accidentes geográficos que atraviesa la línea roja.



- A Montes Urais, montes Cárpatos, Alpes Dináricos, montes Apeninos.
Montes Urales, montes Cárpatos, Alpes Dináricos, montes Apeninos.
- B Montes Rusos, montes Balcáns, Alpes Dináricos, montes Macedonios.
Montes Rusos, montes Balcanes, Alpes Dináricos, Montes Macedonios.
- C Montes Urais, montes Cárpatos, montes Balcáns, Cáucaso.
Montes Urales, montes Cárpatos, montes Balcanes, Cáucaso.



10. Cando apareceron as primeiras formas de agricultura e gandaría?

¿Cuándo aparecieron las primeras formas de agricultura y ganadería?

- A** No período Mesolítico, na Europa central.
En el período Mesolítico, en Europa central.
- B** Na Idade do Bronce, en Asia Menor.
En la Edad del Bronce, en Asia Menor.
- C** No período Neolítico, na área xeográfica do Oriente Medio.
En el período Neolítico, en el área geográfica del Oriente Medio.

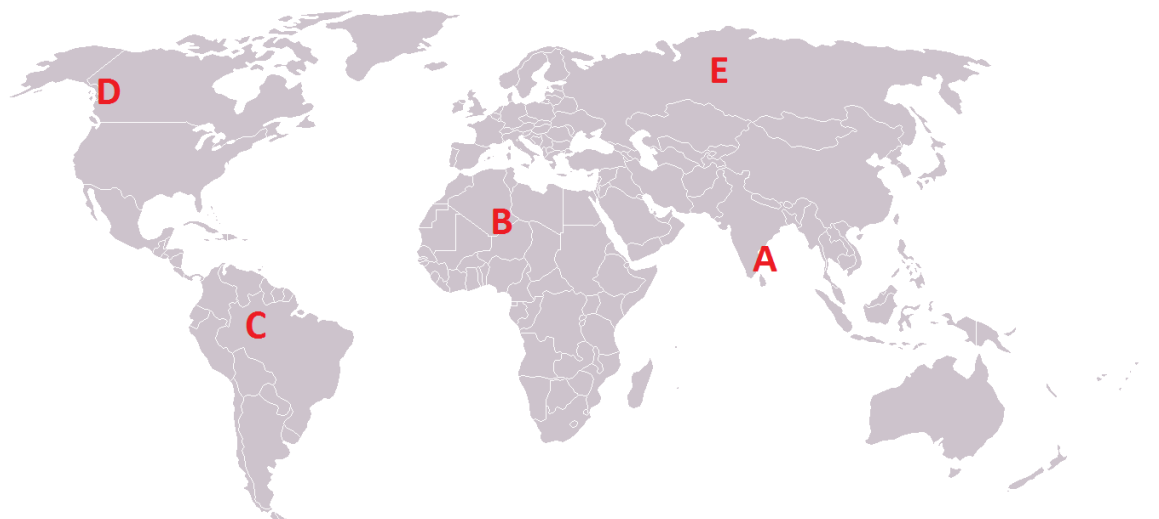
11. Sinale cal dos movementos artísticos propostos naceu con anterioridade ao século XX.

Señale cual de los movimientos artísticos propuestos nació con anterioridad al siglo XX.

- A** Construtivismo ruso.
Constructivismo ruso.
- B** Fauvismo
- C** Impresionismo

12. Cada letra proposta corresponde á localización dun tipo de clima. Identifique a resposta correcta.

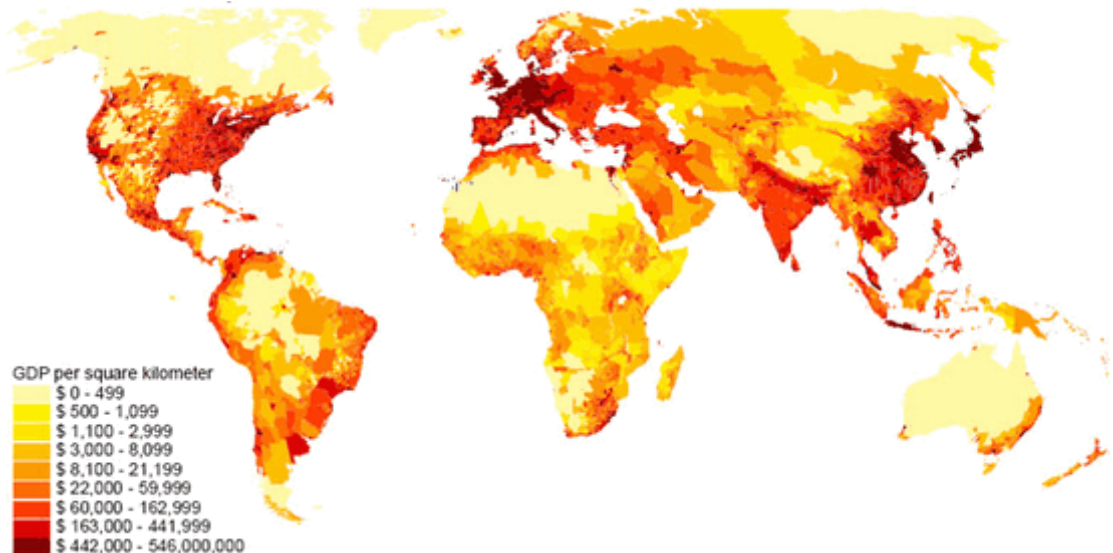
Cada letra propuesta corresponde a la localización de un tipo de clima. Identifique la respuesta correcta.



- A** A: monzónico, B: desértico, C: ecuatorial, D: oceánico, E: continental.
- B** A: ecuatorial, B: oceánico, C: continental, D: polar, E: monzónico.
- C** A: oceánico, B: monzónico, C: ecuatorial, D: polar, E: continental.

13. Á vista do mapa que representa a densidade do PIB mundial (PIB *per cápita* en cada área), identifique a resposta que mellor recolle esta realidade económica.

A la vista del mapa que representa la densidad del PIB mundial (PIB per cápita en cada área), identifique la respuesta que mejor recoge esta realidad económica.



- A** Os países que acumulan maior riqueza *per cápita* son os de fala anglosaxona, e os máis desfavorecidos atopámoslos en América central.

Los países que acumulan mayor riqueza per cápita son los de habla anglosajona, y los mas desfavorecidos los encontramos en América central.

- B** Os países que acumulan maior riqueza *per cápita* son os árabes, e os máis desfavorecidos están en África e América do sur.

Los países que acumulan mayor riqueza per cápita son los árabes, mientras los mas desfavorecidos están en África y América del sur.

- C** Os países que acumulan maior riqueza *per cápita* sitúanse principalmente nas áreas mesoclimáticas do hemisferio norte, e os máis desfavorecidos están en África.

Los países que acumulan mayor riqueza per cáita se sitúan principalmente en las áreas mesoclimáticas del hemisferio norte, y los mas desfavorecidos están en África.

14. Cal destes organismos dependentes da ONU está relacionado coa protección ao refuxiado?

¿Cuál de estos organismos dependientes de la ONU está relacionado con la protección al refugiado?

- A** UNICEF.
B UNESCO.
C ACNUR.

15. Cal dos concellos galegos sinalados non limita coa costa atlántica?

¿Cuál de los ayuntamientos gallegos señalados no limita con la costa atlántica?

- A** Xove.
B Cariño.
C Ortigueira.



16. O artigo 1.3 da Constitución española, establece: “A forma política do Estado español é a Monarquía parlamentaria”. Señale a expresión que define o verdadeiro papel do Rei.
-

El artículo 1.3 de la Constitución española, establece: “La forma política del Estado Español es la Monarquía Parlamentaria”. Señale la expresión que define el verdadero papel del Rey.

A Indícalles ás Cortes como deben redactar as leis.

Indica a las Cortes como deben redactar las leyes.

B Dirixe as sesións parlamentarias.

Dirige las sesiones parlamentarias.

C Arbitra e modera o funcionamento das institucións.

Arbitra y modera el funcionamiento de las instituciones.

17. O artigo 21.3 da Declaración Universal dos Dereitos Humanos afirma: “A vontade do pobo é a base da autoridade do poder público”. Señale a frase que interpreta mellor a expresión citada.
-

El artículo 21.3 de la Declaración Universal de los Derechos Humanos afirma: “La voluntad del pueblo es la base de la autoridad del poder público”. Señale la expresión que interpreta mejor la expresión citada.

A Os poderes dun Estado deben interpretar os desexos do pobo.

Los poderes de un Estado deben interpretar los deseos del pueblo.

B Os poderes dun Estado deben ser elixidos democraticamente polo pobo.

Los poderes de un Estado deben ser elegidos democráticamente por el pueblo.

C Os poderes dun Estado deben amosarse autoritarios co pobo.

Los poderes de un Estado deben mostrarse autoritarios con el pueblo.

18. Indique a expresión que mellor define o concepto de “Romanización”
-

Indique la expresión que mejor define el concepto de “Romanización”.

A Proceso de conquista levado adiante polos romanos.

Proceso de conquista llevado adelante por los romanos.

B Proceso polo cal os pobos conquistados por Roma asimilaron o seu idioma, costumes, cultura e réxime xurídico.

Es el proceso por el cual los pueblos conquistados por Roma asimilaron su idioma, costumbres, cultura y régimen jurídico.

C Proceso no que os pobos conquistados por Roma comezaron a liberarse dese dominio.

Es el proceso en el que los pueblos conquistados por Roma comenzaron a liberarse de ese dominio.

19. A primeira vacina (antivariólica) foi experimentada por...
-

La primera vacuna (antivariólica) fue experimentada por...

A L. Pasteur en 1881.

B A. Fleming en 1928.

C E. Jenner en 1796.

20. O mapa representa o índice de contaminación lumínica na Península Ibérica, que é maior nas zonas máis claras. Señale a expresión que mellor recolla esa realidade.

El mapa representa el índice de contaminación lumínica en la Península Ibérica, que es mayor en las zonas más claras. Señale la expresión que mejor recoja esa realidad



- A** A maior parte da poboación concéntrase na periferia peninsular, nas mesetas e no contorno de Madrid, consumindo moita enerxía que ten como consecuencia máis negativa o vertido dunha grande cantidade de gas metano á atmosfera.

La mayor parte de la población se concentra en la periferia peninsular, en las mesetas y en el entorno de Madrid, consumiendo mucha energía que tiene como consecuencia más negativa el vertido de una gran cantidad de gas metano a la atmósfera.

- B** A maior parte da poboación concéntrase na periferia peninsular e no contorno de Madrid, consumindo moita enerxía que ten como consecuencia máis negativa o vertido dunha grande cantidade de gases de efecto invernadoiro á atmosfera.

La mayor parte de la población se concentra en la periferia peninsular y en el entorno de Madrid, consumiendo mucha energía que tiene como consecuencia más negativa el vertido de una gran cantidad de gases de efecto invernadero a la atmósfera.

- C** A maior parte da poboación concéntrase na periferia peninsular, nas zonas montañosas e no contorno de Madrid, consumindo moita enerxía, que ten como consecuencia máis negativa o vertido dunha grande cantidade de gas butano á atmosfera.

La mayor parte de la población se concentra en la periferia peninsular, en las zonas montañosas y en el entorno de Madrid, consumiendo mucha energía que tiene como consecuencia más negativa el vertido de una gran cantidad de gas butano a la atmósfera.



3. Solución para as preguntas tipo test

Nº	A	B	C	
1	X			
2			X	
3	X			
4			X	
5		X		
6		X		
7		X		
8		X		
9	X			
10			X	
11			X	
12	X			
13			X	
14			X	
15	X			
16			X	
17		X		
18		X		
19			X	
20		X		
Nº de respostas correctas (C)				
Nº de respostas incorrectas (Z)				
Puntuación do test = $C \times 0'5 - Z \times 0'125$				

Nas preguntas de test, por cada resposta incorrecta descontaranse 0'125 puntos. As respostas en branco non descontarán puntuación.